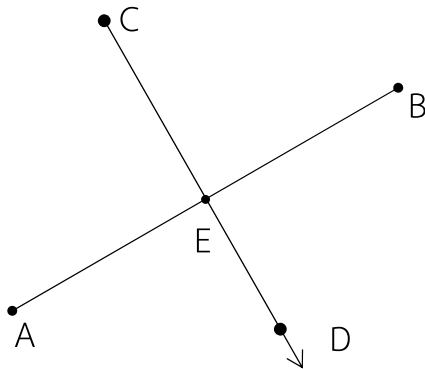


ใบงาน เรื่อง เส้นตั้งฉาก 1

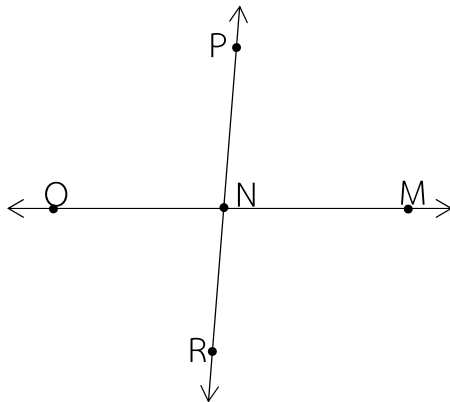
คำสั่ง

ตรวจสอบเส้นตรง รั้งสี่ หรือส่วนของเส้นตรงที่กำหนดให้ว่าตั้งฉากกันหรือไม่ เพราะเหตุใด

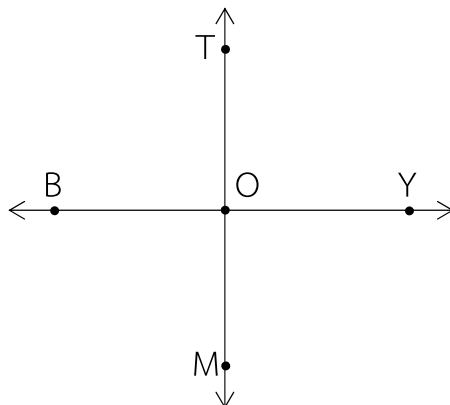
1



2



3



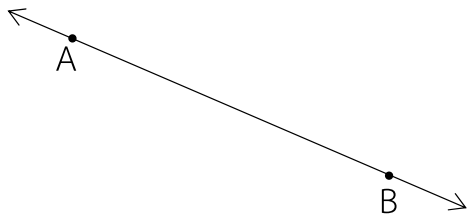
ใบงาน เรื่อง เส้นตั้งฉาก 2

คำสั่ง

สร้างเส้นตั้งฉากตามข้อกำหนด

1

สร้าง $\overleftrightarrow{CD} \perp \overleftrightarrow{AB}$



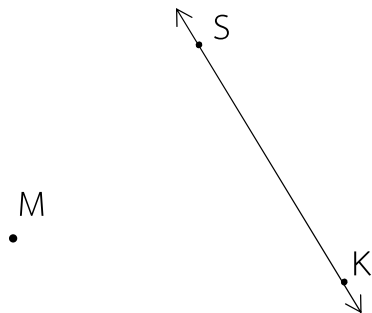
2

สร้าง $\overleftrightarrow{XY} \perp \overleftrightarrow{PQ}$



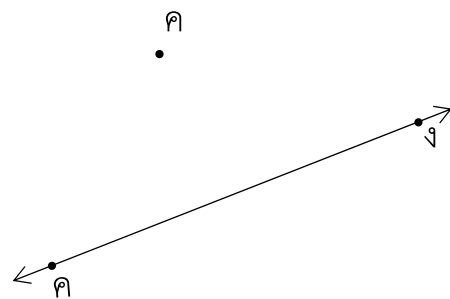
3

สร้าง $\overleftrightarrow{MN} \perp \overleftrightarrow{SK}$



4

สร้าง กว \perp คง



5

สร้าง $\overleftrightarrow{RT} \perp \overleftrightarrow{OP}$ ที่จุด K

6

สร้าง $\overleftrightarrow{HA} \perp \overleftrightarrow{RE}$ ที่จุด R